

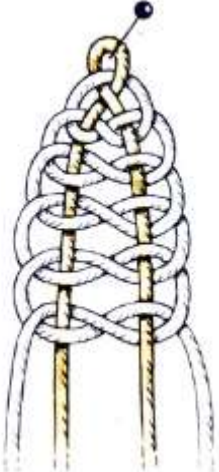

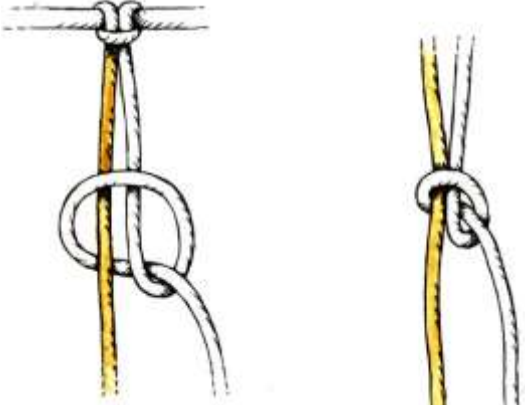
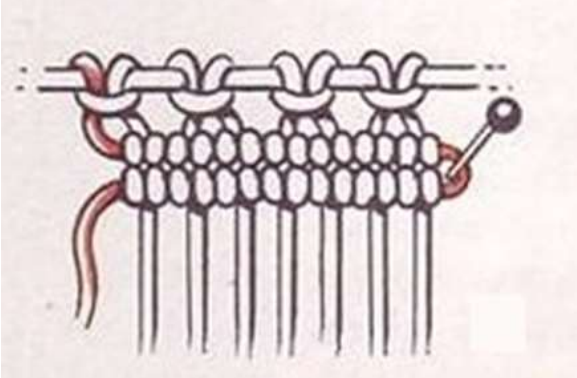
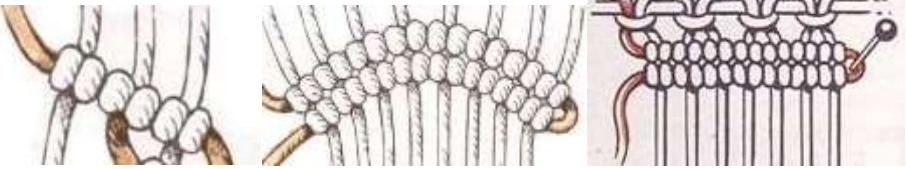
Итоговое занятие


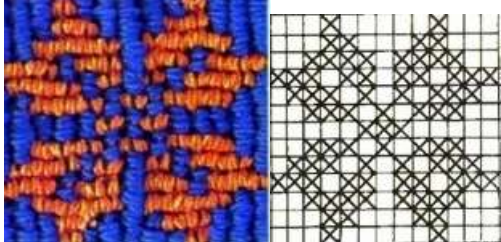

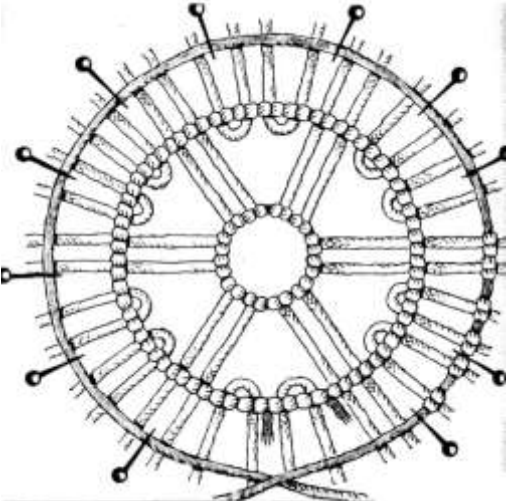

Цель: Определить уровень освоения программы учащимися.

Задачи:

- Выполнить диагностические задания в технике макраме.
- Закрепить теоретические знания, практические умения и навыки по технике макраме.

Диагностические задания

№	Задания	Вопросы
1.		<p>Как называется изображённый узел?</p> <p>А финиковый узел Б армянский узел В фиговый узел</p>
2.	<p data-bbox="145 1070 177 1099">А</p>  <p data-bbox="507 1115 539 1144">Б</p> <p data-bbox="802 1115 834 1144">В</p>	<p>Найдите изображение узла «Жозефина»?</p> <p>А Б В</p> <p>Как называется красный узел?</p>
3.		<p>Как называется изображённый узел?</p>
4.		<p>Дайте определение бриде?</p> <p>А это один репсовый узел Б это сетка из репсовых узлов В это несколько репсовых узлов, сплетённых на одной основе</p>
5.		<p>Найдите изображение дугообразной бриды?</p> <p>А в центре Б с правой стороны В с левой стороны</p>

6.		<p>Как называется изображенный узелковый узор?</p> <p>А сетка из узлов «Жозефина» Б сетка из армянских узлов В ромб из узлов «Жозефина»</p>
7.		<p>Этот узор выполнен в технике КАВАНДОЛИ?</p> <p>А да Б нет</p>
8.		<p>Как называется украшение верхнего края изделия?</p> <p>А фестон с ДПУ Б фестон с двойным пико и ДПУ В украшение из ДПУ</p>
9.		<p>Началу плетения каких изделий соответствует схема?</p> <p>А пояс Б салфетка В кашпо</p>
10.		<p>Выполните в технике макраме сетку из двойных плоских узлов</p>
		<p>Обратная связь: Выполните задания, ответьте на вопросы, ответы запишите и пришлите мне.</p>

